

ટ્રાફિકની સંજ્ઞાઓ

ચાલો જાણીએ ટ્રાફિકની નિશાનીઓ

સંકલન : **OM COMPUTER**

**OM COMPUTER
NARAYAN NIDHI COMPLEX
AT-PO-TA-DHNAUSRA
DIST-ARVALLI
GUJARAT(383310)**

Traffic Signages





ID	Questions	Question Image
1	નીચેની સંજ્ઞા શું દર્શાવે છે ?  () અંકુશનો અંત () પ્રવેશ મનાઈ () ઓવર ટેકિંગ મનાઈ	
2	નીચેની સંજ્ઞા શું દર્શાવે છે ?  () નો એન્ટ્રી () વન - વે () ગતિ મર્યાદાનો અંત	
3	નીચેની સંજ્ઞા શું દર્શાવે છે ?  () નો એન્ટ્રી () વન - વે () ગતિ મર્યાદાનો અંત	
4	નીચેની સંજ્ઞા શું દર્શાવે છે ?  () સીધા જાવ () એક માર્ગી રસ્તો () બંને દિશામાં જવું મનાઈ છે	

<p>5</p> 	<p>નીચેની સંજ્ઞા શું દર્શાવે છે ?</p> <p>() બધા જ વાહનો માટે પ્રવેશ બંધ</p> <p>() કાર તથા મોટર સાઇકલ માટે પ્રવેશ બંધ</p> <p>() કાર તથા મોટર સાઇકલ માટે પ્રવેશ</p>
<p>6</p> 	<p>નીચેની સંજ્ઞા શું દર્શાવે છે ?</p> <p>() ટ્રક માટે મનાઈ છે</p> <p>() બસ માટે મનાઈ છે</p> <p>() હેવી વાહનો માટે મનાઈ છે</p>
<p>7</p> 	<p>નીચેની સંજ્ઞા શું દર્શાવે છે ?</p> <p>() બળદ ગાડા માટે મનાઈ છે</p> <p>() બળદ ગાડા માટે પ્રવેશ</p> <p>() બધા જ વાહનો માટે મનાઈ છે</p>
<p>8</p> 	<p>નીચેની સંજ્ઞા શું દર્શાવે છે ?</p> <p>() ઘોડાગાડી માટે મનાઈ છે</p> <p>() ઘોડાગાડી માટે પ્રવેશ</p> <p>() બધા જ વાહનો માટે મનાઈ છે</p>
<p>9</p> 	<p>નીચેની સંજ્ઞા શું દર્શાવે છે ?</p> <p>() સાયકલ માટે પ્રતિબંધ</p> <p>() હાથલારી માટે પ્રતિબંધ</p> <p>() હાથલારી માટે રસ્તો</p>











<p>10</p> 	<p>નીચેની સંજ્ઞા શું દર્શાવે છે ?</p> <p>() સાયકલ ચલાવવાની છૂટ</p> <p>() સાયકલ ચલાવવાની મનાઈ</p> <p>() સાયકલ પરથી નીચે ઉતરી ચલાવો</p>	
<p>11</p> 	<p>નીચેની સંજ્ઞા શું દર્શાવે છે ?</p> <p>() વિદ્યાર્થી માટે મનાઈ છે</p> <p>() ફક્ત વિદ્યાર્થીઓ માટે પ્રવેશ</p> <p>() રાહદારી માટે મનાઈ છે</p>	
<p>12</p> 	<p>નીચેની સંજ્ઞા શું દર્શાવે છે ?</p> <p>() યુ ટર્ન મનાઈ છે</p> <p>() જમણી બાજુ વળવાની મનાઈ છે</p> <p>() ડાબી બાજુથી ઓવરટેકિંગ મનાઈ છે</p>	
<p>13</p> 	<p>નીચેની સંજ્ઞા શું દર્શાવે છે ?</p> <p>() જમણી બાજુથી ઓવર ટેક કરવાની મનાઈ છે</p> <p>() ડાબી બાજુ વળાંક લો</p> <p>() ડાબી બાજુ વળવાની મનાઈ છે</p>	
<p>14</p> 	<p>નીચેની સંજ્ઞા શું દર્શાવે છે ?</p> <p>() જમણી બાજુ વળવું મનાઈ છે</p> <p>() જમણી બાજુ તીવ્ર વળાંક</p> <p>() યુ ટર્ન મનાઈ છે</p>	

<p>15</p> 	<p>નીચેની સંજ્ઞા શું દર્શાવે છે ?</p> <p>() જમણી બાજુથી પ્રવેશ મનાઈ છે</p> <p>() ડાબી બાજુથી પ્રવેશ મનાઈ છે</p> <p>() ઓવર ટેકિંગ મનાઈ છે</p>
<p>16</p> 	<p>નીચેની સંજ્ઞા શું દર્શાવે છે ?</p> <p>() હોર્ન વગાડવાની મનાઈ છે</p> <p>() ફરજિયાત હોર્ન વગાડવો</p> <p>() હોર્ન વગાડી શકાય</p>
<p>17</p> 	<p>નીચેની સંજ્ઞા શું દર્શાવે છે ?</p> <p>() ૧૦ મીટર લંબાઈ સુધીના વાહન માટે છૂટ</p> <p>() ૧૦ મીટર કરતા વધુ લંબાઈવાળા વાહનો માટે છૂટ</p> <p>() આગળ ૧૦ મીટર પહોળો માર્ગ છે</p>
<p>18</p> 	<p>નીચેની સંજ્ઞા શું દર્શાવે છે ?</p> <p>() ૫૦ કિમી /ક કરતા વધુ ઝડપે વાહન ચલાવવું નહીં</p> <p>() ૫૦ કિમી/ક ની ઝડપે વાહન ચલાવવું</p> <p>() ૫૦ કિમી/ક કરતા વધુ ઝડપે વાહન ચલાવવું</p>

<p>19</p> 	<p>નીચેની સંજ્ઞા શું દર્શાવે છે ?</p> <p>() પાંચ ટનની વજન મર્યાદા</p> <p>() પાંચ ટનથી વધુ વજનની છૂટ</p> <p>() પચાસ ટનની મર્યાદા</p>
<p>20</p> 	<p>નીચેની સંજ્ઞા શું દર્શાવે છે ?</p> <p>() 3.૫ મીટર કરતા વધુ ઉંચાઈવાળા વાહન માટે પ્રવેશ</p> <p>() 3.૫ મીટર કરતા વધુ પહોળાઈવાળા વાહન માટે પ્રવેશ</p> <p>() 3.૫ મીટર કરતા ઓછી ઉંચાઈવાળા વાહન માટે પ્રવેશ</p>
<p>21</p> 	<p>નીચેની સંજ્ઞા શું દર્શાવે છે ?</p> <p>() ગતિ મર્યાદા ૨૦ કિમી/ક</p> <p>() ૨ મીટર કરતા વધુ પહોળાઈવાળા વાહન માટે મનાઈ</p> <p>() ૨ મીટર કરતા વધુ ઉંચાઈવાળા વાહન માટે મનાઈ</p>
<p>22</p> 	<p>નીચેની સંજ્ઞા શું દર્શાવે છે ?</p> <p>() ડાબી બાજુ સાઈડ રોડ છે</p> <p>() ગતિ મર્યાદાનો અંત</p> <p>() એક્સલ (ઘરી) માં વજનની મર્યાદા</p>
<p>23</p> 	<p>નીચેની સંજ્ઞા શું દર્શાવે છે ?</p> <p>() રસ્તો બંધ છે</p> <p>() પાર્કિંગની મનાઈ છે</p> <p>() ગતિ મર્યાદાનો અંત</p>








<p>24</p> 	<p>નીચેની સંજ્ઞા શું દર્શાવે છે ?</p> <p>() અંકુશનો અંત</p> <p>() થોભો નહીં</p> <p>() પાર્કિંગ મનાઈ</p>	
<p>25</p> 	<p>નીચેની સંજ્ઞા શું દર્શાવે છે ?</p> <p>() ચાર રસ્તા હાવાથી થોભો</p> <p>() થોભો નહીં</p> <p>() જંકશન</p>	
<p>26</p> 	<p>નીચેની સંજ્ઞા શું દર્શાવે છે ?</p> <p>() આગળથી પ્રવેશ બંધ</p> <p>() ફક્ત આગળ - સીધા જાઓ</p> <p>() બંને બાજુથી પ્રવેશ</p>	
<p>27</p> 	<p>નીચેની સંજ્ઞા શું દર્શાવે છે ?</p> <p>() ડાબી બાજુ થોભો</p> <p>() ફરજિયાત ડાબી બાજુ હાંકો</p> <p>() ડાબી બાજુ વળાંક લો</p>	
<p>28</p> 	<p>નીચેની સંજ્ઞા શું દર્શાવે છે ?</p> <p>() ડાબી બાજુ હાંકો</p> <p>() ડાબી બાજુ રસ્તો નથી</p> <p>() ફરજિયાત ડાબી બાજુ વળો</p>	











<p>29</p> 	<p>નીચેની સંજ્ઞા શું દર્શાવે છે ?</p> <p>() સામે જમણી બાજુ રસ્તો છે</p> <p>() ફરજિયાત જમણી બાજુ વળો</p> <p>() જમણી બાજુ વળવું સખત મનાઈ છે</p>	
<p>30</p> 	<p>નીચેની સંજ્ઞા શું દર્શાવે છે ?</p> <p>() આગળથી જમણી બાજુ વળો</p> <p>() આગળથી ડાબી બાજુ વળો</p> <p>() આગળ સીધા જાઓ</p>	
<p>31</p> 	<p>નીચેની સંજ્ઞા શું દર્શાવે છે ?</p> <p>() આગળથી ડાબી બાજુ વળવાની મનાઈ છે</p> <p>() આગળથી ડાબી બાજુ વળો</p> <p>() આગળથી જમણી બાજુ વળો</p>	
<p>32</p> 	<p>નીચેની સંજ્ઞા શું દર્શાવે છે ?</p> <p>() ફરજિયાત આગળ વધો અથવા જમણી બાજુ વળાંક લો</p> <p>() ફરજિયાત આગળ વધો અથવા ડાબી બાજુ વળાંક લો</p> <p>() આગળ સાઈડ રોડ છે</p>	
<p>33</p> 	<p>નીચેની સંજ્ઞા શું દર્શાવે છે ?</p> <p>() ફરજિયાત આગળ વધો અથવા જમણી બાજુ વળાંક લો</p> <p>() ફરજિયાત આગળ વધો અથવા ડાબી બાજુ વળાંક લો</p> <p>() આગળ સાઈડ રોડ છે</p>	

<p>34</p> 	<p>નીચેની સંજ્ઞા શું દર્શાવે છે ?</p> <p>() ફરજિયાત સાઈકલ ટ્રેક</p> <p>() સાઈકલ પાર્કિંગ</p> <p>() સાઈકલ પ્રવેશ મનાઈ</p>	
<p>35</p> 	<p>નીચેની સંજ્ઞા શું દર્શાવે છે ?</p> <p>() હોર્ન વગાડવો ફરજિયાત છે</p> <p>() હોર્ન સતત વગાડવો</p> <p>() હોર્ન વગાડવાની મનાઈ છે</p>	
<p>36</p> 	<p>નીચેની સંજ્ઞા શું દર્શાવે છે ?</p> <p>() ફરજિયાત બસ સ્ટોપ</p> <p>() ફરજિયાત ટ્રક સ્ટોપ</p> <p>() બસ - ટ્રક પ્રવેશ મનાઈ</p>	
<p>37</p> 	<p>નીચેની સંજ્ઞા શું દર્શાવે છે ?</p> <p>() વાહન થોભો</p> <p>() નો પાર્કિંગ</p> <p>() આગળ સર્કલ છે</p>	
<p>38</p> 	<p>નીચેની સંજ્ઞા શું દર્શાવે છે ?</p> <p>() રસ્તો આપો</p> <p>() આગળ રસ્તો પહોળો છે</p> <p>() આગળ ટ્રાફિક આઈલેડ છે</p>	

<p>39</p> 	<p>નીચેની સંજ્ઞા શું દર્શાવે છે ?</p> <p>() જમણી બાજુ ઝીંગ - જેગ વળાંક</p> <p>() ડાબી બાજુ ઝીંગ - જેગ વળાંક</p> <p>() ડાબી બાજુ વળાંક લઈ આગળ વધો</p>	
<p>40</p> 	<p>નીચેની સંજ્ઞા શું દર્શાવે છે ?</p> <p>() આગળ સાંકડો રસ્તો છે</p> <p>() વાય ક્રોસિંગ છે</p> <p>() આગળ રસ્તો પહોળો છે</p>	
<p>41</p> 	<p>નીચેની સંજ્ઞા શું દર્શાવે છે ?</p> <p>() રાહદારીનું ક્રોસીંગ</p> <p>() રાહદારી માટે મનાઈ છે</p> <p>() આગળ સ્કૂલ છે</p>	
<p>42</p> 	<p>નીચેની સંજ્ઞા શું દર્શાવે છે ?</p> <p>() આગળ ફેરિ સર્વિસ છે</p> <p>() આગળ પુલ છે</p> <p>() નાસ્તા પાણી માટેનો સ્ટોલ છે</p>	
<p>43</p> 	<p>નીચેની સંજ્ઞા શું દર્શાવે છે ?</p> <p>() જમણી બાજુ ચઢાણ</p> <p>() જમણી બાજુનો વળાંક</p> <p>() વાહન જમણી બાજુ રાખો</p>	

<p>44</p> 	<p>નીચેની સંજ્ઞા શું દર્શાવે છે ?</p> <p>() ડાબી બાજુ વળાંક</p> <p>() ડાબી બાજુ ચટાણ</p> <p>() ડાબી બાજુ વાહન</p>	
<p>45</p> 	<p>નીચેની સંજ્ઞા શું દર્શાવે છે ?</p> <p>() જમણી બાજુ ચીપિયા જેવો વળાંક</p> <p>() જમણી બાજુ ચટાણ અને ઢાળ</p> <p>() જમણી બાજુ ઢાળ</p>	
<p>46</p> 	<p>નીચેની સંજ્ઞા શું દર્શાવે છે ?</p> <p>() ડાબી બાજુ ઢાળ</p> <p>() ડાબી બાજુ ચીપિયા જેવો વળાંક</p> <p>() વાહન રસ્તાની ડાબી બાજુ રાખો</p>	
<p>47</p> 	<p>નીચેની સંજ્ઞા શું દર્શાવે છે ?</p> <p>() જમણી બાજુ ઝીંગ - જેગ વળાંક</p> <p>() ડાબી બાજુ ઝીંગ - જેગ વળાંક</p> <p>() ડાબી બાજુ વળાંક લઈ આગળ વધો</p>	
<p>48</p> 	<p>નીચેની સંજ્ઞા શું દર્શાવે છે ?</p> <p>() સીધુ ચટાણ</p> <p>() સીધો ઢાળ</p> <p>() ચીકણો રસ્તો</p>	

<p>49</p> 	<p>નીચેની સંજ્ઞા શું દર્શાવે છે ?</p> <p>() સીધું ચઢાણ</p> <p>() સીધો ઢાળ</p> <p>() ચીકણો રસ્તો</p>	
<p>50</p> 	<p>નીચેની સંજ્ઞા શું દર્શાવે છે ?</p> <p>() આગળ સાંકડો રસ્તો છે</p> <p>() આગળ સાંકડું નાળું છે</p> <p>() આગળ બંને બાજુ રસ્તા છે</p>	
<p>51</p> 	<p>નીચેની સંજ્ઞા શું દર્શાવે છે ?</p> <p>() સામે બંને તરફ રોડ છે</p> <p>() આગળ સાંકડો બીજ છે</p> <p>() આગળ સાંકડો રસ્તો છે</p>	
<p>52</p> 	<p>નીચેની સંજ્ઞા શું દર્શાવે છે ?</p> <p>() વાહન સરકી જાય તેવો ચીકણો રસ્તો</p> <p>() પથ્થરવાળો કાર્યો રસ્તો</p> <p>() મોટરકાર માટે મનાઈ છે</p>	
<p>53</p> 	<p>નીચેની સંજ્ઞા શું દર્શાવે છે ?</p> <p>() છૂટા પથ્થરવાળો રસ્તો</p> <p>() સરકી જવાય તેવો ચીકણો રસ્તો</p> <p>() મોટરકાર માટે પ્રવેશ મનાઈ</p>	











<p>54</p> 	<p>નીચેની સંજ્ઞા શું દર્શાવે છે ?</p> <p>() સાયકલ ક્રોસીંગ</p> <p>() સાયકલ ક્રોસ કરવાની મનાઈ</p> <p>() સાયકલ માટે પ્રવેશ બંધ</p>	
<p>55</p> 	<p>નીચેની સંજ્ઞા શું દર્શાવે છે ?</p> <p>() આગળ સ્કૂલ છે</p> <p>() રાહદારીનું ક્રોસીંગ</p> <p>() રાહદારી માટે ક્રોસીંગ મનાઈ છે</p>	
<p>56</p> 	<p>નીચેની સંજ્ઞા શું દર્શાવે છે ?</p> <p>() રોડ ઉપર માણસ કામ કરે છે</p> <p>() બાળકો રમે છે</p> <p>() રાહદારીનું ક્રોસીંગ</p>	
<p>57</p> 	<p>નીચેની સંજ્ઞા શું દર્શાવે છે ?</p> <p>() ટોર - પશુ લઈ જવાની મનાઈ છે</p> <p>() રોડ ઉપર ટોર - પશુની શક્યતા છે</p> <p>() ટોર - પશુ લઈ જતા વાહન માટે મનાઈ છે</p>	
<p>58</p> 	<p>નીચેની સંજ્ઞા શું દર્શાવે છે ?</p> <p>() રીંગ રોડ</p> <p>() ચીકણો રસ્તો</p> <p>() ખડકના પથ્થરો ઉપરથી પડેલ છે</p>	


<p>59</p> 	<p>નીચેની સંજ્ઞા શું દર્શાવે છે ?</p> <p>() રોડ ક્રોસ (ક્રોસ રોડ) આગળ ચાર રસ્તા છે</p> <p>() વાહન માટે પ્રવેશ મનાઈ</p> <p>() હોસ્પિટલ</p>
<p>60</p> 	<p>નીચેની સંજ્ઞા શું દર્શાવે છે ?</p> <p>() રસ્તાની મધ્યમાં ગટર લાઈન છે</p> <p>() આગળ પુલ છે</p> <p>() મધ્યમાં ખાલી ગેપ છે</p>
<p>61</p> 	<p>નીચેની સંજ્ઞા શું દર્શાવે છે ?</p> <p>() જમણી બાજુ વળો</p> <p>() જમણી બાજુ સાઈડ રોડ છે</p> <p>() રોડની જમણી સાઈડ વાહન ચલાવો</p>
<p>62</p> 	<p>નીચેની સંજ્ઞા શું દર્શાવે છે ?</p> <p>() ડાબી બાજુ વળો</p> <p>() ડાબી બાજુ સાઈડ રોડ છે</p> <p>() રોડની ડાબી સાઈડ વાહન ચલાવો</p>

<p>63</p> 	<p>નીચેની સંજ્ઞા શું દર્શાવે છે ?</p> <p>() વાચ ક્રોસીંગ ડાબી બાજુ</p> <p>() વાચ ક્રોસીંગ જમણી બાજુ</p> <p>() જમણી બાજુ સાઈડ રોડ છે</p>	
<p>64</p> 	<p>નીચેની સંજ્ઞા શું દર્શાવે છે ?</p> <p>() ડાબી બાજુ વાચ ક્રોસીંગ</p> <p>() જમણી બાજુ વાચ ક્રોસીંગ</p> <p>() ડાબી બાજુ સાઈડ રોડ છે</p>	
<p>65</p> 	<p>નીચેની સંજ્ઞા શું દર્શાવે છે ?</p> <p>() ડાબી બાજુ વાહન વાળો</p> <p>() જમણી બાજુ વાહન વાળો</p> <p>() વાચ ક્રોસીંગ</p>	
<p>66</p> 	<p>નીચેની સંજ્ઞા શું દર્શાવે છે ?</p> <p>() આગળ ક્રોસ રોડ છે</p> <p>() પ્રવેશ બંધ</p> <p>() આગળ સાંકડો રસ્તો આવે છે</p>	
<p>67</p> 	<p>નીચેની સંજ્ઞા શું દર્શાવે છે ?</p> <p>() મુખ્ય રોડ આગળ છે</p> <p>() મુખ્ય રોડ આગળ નથી</p> <p>() મુખ્ય રોડ આગળ સમાપ્ત થાય છે</p>	



<p>68</p> 	<p>નીચેની સંજ્ઞા શું દર્શાવે છે ?</p> <p>() વાહન જમણી બાજુ વાળો</p> <p>() વાહન ડાબી બાજુ વાળો</p> <p>() વર્તુળાકાર ચાર રસ્તા</p>	
<p>69</p> 	<p>નીચેની સંજ્ઞા શું દર્શાવે છે ?</p> <p>() આગળ સાંકડો રસ્તો છે</p> <p>() ભયજનક સુપડી (ડીપ) છે</p> <p>() ફેરી - બોટની સેવા છે</p>	
<p>70</p> 	<p>નીચેની સંજ્ઞા શું દર્શાવે છે ?</p> <p>() આગળ બેરીયર (અવરોધ, સીમા, મર્યાદા) છે</p> <p>() રેલવે ક્રોસીંગ છે</p> <p>() આગળ વજન કાંટો છે</p>	
<p>71</p> 	<p>નીચેની સંજ્ઞા શું દર્શાવે છે ?</p> <p>() ૨૦૦ મીટર આગળ નજીકમાં રેલવે સ્ટેશન છે</p> <p>() ૨૦૦ મીટર આગળ ફાટક વગરનું રેલવે ક્રોસીંગ છે</p> <p>() ૨૦૦ મીટર આગળ ફાટકવાળું રેલવે ક્રોસીંગ છે</p>	






<p>72</p> 	<p>નીચેની સંજ્ઞા શું દર્શાવે છે ?</p> <p>() ૨૦૦ મીટર આગળ નજીકમાં રેલવે સ્ટેશન છે</p> <p>() ૨૦૦ મીટર આગળ ફાટક વગરનું રેલવે ક્રોસીંગ છે</p> <p>() ૨૦૦ મીટર આગળ ફાટકવાળું રેલવે ક્રોસીંગ છે</p>
<p>73</p> 	<p>નીચેની સંજ્ઞા શું દર્શાવે છે ?</p> <p>() આગળ બમ્પ તથા ખાડા ટેકરા વાળો રસ્તો છે</p> <p>() ઝીંગ જેગ રોડ</p> <p>() ઘાટ રોડ</p>
<p>74</p> 	<p>નીચેની સંજ્ઞા શું દર્શાવે છે ?</p> <p>() પ્રાથમિક સારવાર કેન્દ્ર</p> <p>() વિસામો લેવાની જગ્યા</p> <p>() હોસ્પિટલ</p>
<p>75</p> 	<p>નીચેની સંજ્ઞા શું દર્શાવે છે ?</p> <p>() પ્રાથમિક સારવાર કેન્દ્ર</p> <p>() વિસામો લેવાની જગ્યા</p> <p>() હોસ્પિટલ</p>






<p>76</p> 	<p>નીચેની સંજ્ઞા શું દર્શાવે છે ?</p> <p>() હોસ્પિટલ</p> <p>() વિરામસ્થાન</p> <p>() પ્રાથમિક સારવાર કેન્દ્ર</p>	
<p>77</p> 	<p>નીચેની સંજ્ઞા શું દર્શાવે છે ?</p> <p>() આગળ હોટલ (જમવાનું) છે</p> <p>() આગળ કોસીંગ છે</p> <p>() આગળ ચાર રસ્તા છે</p>	
<p>78</p> 	<p>નીચેની સંજ્ઞા શું દર્શાવે છે ?</p> <p>() આગળ સરિયામ (સળંગ) રોડ નથી</p> <p>() આગળ મેઈન રોડ છે</p> <p>() આગળ ફેરિ સર્વિસ છે</p>	
<p>79</p> 	<p>નીચેની સંજ્ઞા શું દર્શાવે છે ?</p> <p>() સાઈડ રોડ આગળ સરિયામ (સળંગ) રસ્તો નથી</p> <p>() ડાબી બાજુ વળાંક છે</p> <p>() આગળ પુલ છે</p>	
<p>80</p> 	<p>નીચેની સંજ્ઞા શું દર્શાવે છે ?</p> <p>() રોડની જમણી બાજુ વાહન ઠાંકો</p> <p>() જમણી બાજુ પાર્કિંગ માન્ય છે</p> <p>() ફરજિયાત જમણી બાજુ વળવું</p>	




<p>81</p> 	<p>નીચેની સંજ્ઞા શું દર્શાવે છે ?</p> <p>() પાર્કિંગની મનાઈ છે</p> <p>() બંને બાજુ પાર્કિંગ થઈ શકે</p> <p>() પોલીસ મદદની પોસ્ટ</p>	
<p>82</p> 	<p>નીચેની સંજ્ઞા શું દર્શાવે છે ?</p> <p>() પ્રાઇવેટ કાર માટે પ્રવેશ બંધ</p> <p>() ટેક્ષી માટે પાર્કિંગ</p> <p>() પોલીસના વાહનો માટે પાર્કિંગ</p>	
<p>83</p> 	<p>નીચેની સંજ્ઞા શું દર્શાવે છે ?</p> <p>() પેટ્રોલ પંપ માટેનું પાર્કિંગ</p> <p>() ઓટો રીક્ષા માટે પાર્કિંગ</p> <p>() ઓટો રીક્ષા માટે પાર્કિંગ મનાઈ</p>	
<p>84</p> 	<p>નીચેની સંજ્ઞા શું દર્શાવે છે ?</p> <p>() સ્કૂટર - મોટર સાઇકલ પાર્કિંગ</p> <p>() સ્કૂટર - મોટર સાઇકલ માટે મનાઈ છે</p> <p>() સ્કૂટર - મોટર સાઇકલ રીપેરીંગ</p>	

<p>85</p> 	<p>નીચેની સંજ્ઞા શું દર્શાવે છે ?</p> <p>() ફક્ત સાયકલ માટે પાર્કિંગ</p> <p>() ફક્ત સાયકલ અને સ્કૂટર પાર્કિંગ</p> <p>() અહીં સાયકલ પાર્કિંગ નથી</p>	
<p>86</p> 	<p>નીચેની સંજ્ઞા શું દર્શાવે છે ?</p> <p>() આગળ પોસ્ટ ઓફિસ છે</p> <p>() આગળ પેટ્રોલ પંપ છે</p> <p>() આગળ પાણીની સુવિધા છે</p>	
<p>87</p> 	<p>નીચેની સંજ્ઞા શું દર્શાવે છે ?</p> <p>() આગળ ચા - પાણી મળશે નહીં</p> <p>() આગળ ચા - પાણી મળશે</p> <p>() આગળ ચા- પાણી તથા જમવાનું મળશે</p>	
<p>88</p> 	<p>જે રોડ વન - વે તરીકે જાહેર થયેલ હોય ત્યાં...</p> <p>() પાર્કિંગની મનાઈ છે</p> <p>() ઓવર ટ્રેકિંગની મનાઈ છે</p> <p>() રીવર્સ ગીયરમાં વાહન ચલાવવું નહીં</p>	
<p>89</p>	<p>તમે સાંકડા નાળા પાસે પહોંચો છો.</p>	





	<p>સામેથી નાળામાં બીજુ વાહન પ્રવેશે છે. તમે શું કરશો ?</p> <p>() તમારી ઝડપ વધારી જેમ બને તેમ ઝડપથી નાળું પસાર કરશો</p> <p>() હેડ લાઈટ ચાલુ કરી નાળું પસાર કરશો</p> <p>() સામેનું વાહન પસાર થાય ત્યાં સુધી થોભી ત્યારબાદ આગળ વધો</p>	
<p>90</p> 	<p>તમે કોઈપણ વાહનને કેવી રીતે ઓવરટેક કરી શકો ?</p> <p>() આગળના વાહનની ડાબી બાજુથી</p> <p>() આગળના વાહનની જમણી બાજુથી</p> <p>() જો રસ્તો પહોળો હોય તો ડાબી બાજુથી</p>	
<p>91</p> 	<p>ટ્રાન્સપોર્ટ વાહન છે તે કઈ રીતે ઓળખી શકો ?</p> <p>() વાહનમાં ટાયરની સાઈઝ જોઈને</p> <p>() વાહનના કલર ઉપરથી</p> <p>() વાહનની નંબર પ્લેટ જોઈને</p>	
<p>92</p> 	<p>કયા લાઈસન્સની મુદત શું છે ?</p> <p>() જ્યાં સુધી ડ્રાઈવીંગ લાઈસન્સ ન મળે ત્યાં સુધી</p> <p>() છ મહિના સુધી</p> <p>() ત્રીસ દિવસ</p>	
<p>93</p> 	<p>ફૂટપાથ વગરનાં રોડ ઉપર રાહદારીએ શું કરવું ?</p> <p>() રોડની ડાબી બાજુએ ચાલવું</p> <p>() રોડની જમણી બાજુએ ચાલવું</p> <p>() રોડની કોઈપણ બાજુએ ચાલવું</p>	
<p>94</p>	<p>નીચેનામાંથી કયા વાહનોને જવા માટે અગ્રતા આપવી જોઈએ ?</p>	

	<p>() પોલીસના વાહનો</p> <p>() એમ્બ્યુલન્સ અને ફાયર ફાઈટર</p> <p>() એક્સપ્રેસ તથા સુપર એક્સપ્રેસ બસ</p>	
<p>95</p> 	<p>સામેથી આવતા વાહનને તમારી કઈ સાઈડથી પસાર થવા દેશો ?</p> <p>() તમારી જમણી બાજુથી</p> <p>() તમારી ડાબી બાજુથી</p> <p>() કોઈપણ અનુકૂળ બાજુથી</p>	
<p>96</p> 	<p>ડ્રાઈવર પોતાનું વાહન રોડની કઈ બાજુ ચલાવશે ?</p> <p>() રોડની ડાબી બાજુ</p> <p>() રોડની જમણી બાજુ</p> <p>() રોડના સેન્ટરમાં</p>	
<p>97</p> 	<p>રાત્રિ (રાત્રી) દરમિયાન જ્યારે રોડ સાઈડમાં વાહન થોભાવો ત્યારે...</p> <p>() વાહનની પાર્કિંગ લાઈટ ચાલુ કરવી જોઈએ</p> <p>() ડ્રાઈવીંગ લાઈસન્સ ધરાવનાર વ્યક્તિ ડ્રાઈવીંગ સીટ ઉપર બેઠેલી હોવી જોઈએ</p> <p>() વાહન અને તેની બધી જ લાઈટો ચાલુ રાખવી જોઈએ</p>	
<p>98</p> 	<p>રોડ પર ઝેબ્રા (ઝીબ્રા) ક્રોસિંગ શા માટે રાખવામાં આવે છે ?</p> <p>() વાહન ઉભું રાખવા</p> <p>() રાહદારીને રસ્તો ક્રોસ કરવા</p> <p>() વાહનોને અગ્રતા આપવા</p>	
<p>99</p>	<p>ટ્રાફીક સિગ્નલમાં લાલ લાઈટ શું દર્શાવે છે ?</p>	

	<p>() સાવચેતી રાખી વાહન આગળ વધી શકે છે</p> <p>() વાહન થોભાવો</p> <p>() વાહન ધીમું કરો</p>	
<p>10 0</p> 	<p>ટ્રાફિક સિગ્નલમાં પીળી લાઈટ ઝબકે છે. તમે શું કરશો ?</p> <p>() કોઈપણ જાતનો પ્રતિબંધ ન હોવાથી એજ ગતિએ આગળ વધશો</p> <p>() વાહન થોભાવો લીલી લાઈટ થાય ત્યાં સુધી ઉભા રહો</p> <p>() વાહન ધીમું કરીને સલામત લાગે તેમ નક્કી થાય તો જ આગળ વધશો</p>	
<p>10 1</p> 	<p>હોસ્પિટલની સામે વાહન પાર્ક કરવું ...</p> <p>() યોગ્ય છે</p> <p>() અયોગ્ય છે</p> <p>() જો !નો પાર્કિંગ* નિશાનીનું બોર્ડ ન હોય તો યોગ્ય છે</p>	
<p>10 2</p> 	<p>જ્યાં રોડ લપસણો છે તેવી સંજ્ઞા દેખાય ત્યારે ડ્રાઈવર ...</p> <p>() ગીયર બદલીને ગતિ ધીમી કરશો</p> <p>() બ્રેક લગાડશો</p> <p>() એ જ સ્પીડે આગળ વધશો</p>	
<p>10 3</p> 	<p>પી.યુ.સી. સર્ટીફિકેટની મુદત...</p> <p>() છ મહિના</p> <p>() એક વર્ષ</p> <p>() બે વર્ષ</p>	
<p>10</p>	<p>ડ્રાઈવર પોતાનો જમણો હાથ બહાર કાઢી હથેળી નીચેની તરફ રાખી</p>	

4	હાથ ઘણીવાર ઉપર નીચે કરે છે ત્યારે સમજશો કે...	
	<input type="checkbox"/> તે ડાબી બાજુ વળવા માંગે છે <input type="checkbox"/> તે વાહન ધીમુ કરી રહ્યો છે <input type="checkbox"/> ઓવર ટેક કરવા કહે છે	
10	જ્યારે વાહનમાં બળતણ (પેટ્રોલ,ડીઝલ,ગેસ) ભરતા હોય ત્યારે...	
5	<input type="checkbox"/> હવા ચેક કરવામાં મનાઈ છે  <input type="checkbox"/> ધુમ્રપાન કરવું નહીં <input type="checkbox"/> વાહનની કોઈપણ લાઈટ ચાલુ કરવી નહીં	
10	ઓવર ટેક કરવાની મનાઈ છે...	
6	<input type="checkbox"/> આગળ રસ્તો પુરતા પ્રમાણમાં પહોળો હોય ત્યારે  <input type="checkbox"/> રસ્તામાં સેન્ટરમાં સફેદ તુટક લાઈનનું માર્કિંગ કરેલ હોય ત્યારે <input type="checkbox"/> જ્યારે આગળનો રસ્તો બરાબર ન દેખાતો હોય ત્યારે	
10	ગુડ્સ કેરેજ કેબીનમાં કેટલી વ્યક્તિને બેસાડી શકાય ?	
7	<input type="checkbox"/> પાંચ વ્યક્તિ  <input type="checkbox"/> માલ ચઢાવવા ઉતારવા માટે પૂરતી સંખ્યામાં <input type="checkbox"/> રજીસ્ટ્રેશન સર્ટીમાં દર્શાવ્યા મુજબ	
10	પાર્કિંગની મનાઈ છે તેવી જગ્યા કઈ...	
8	<input type="checkbox"/> પાર્કિંગ કરેલ વાહનની સામેની જગ્યા  <input type="checkbox"/> એકમાર્ગી રસ્તા ઉપર <input type="checkbox"/> ફૂટપાથ ઉપર	
10	વાહનની હેન્ડ બ્રેકનો ઉપયોગ ક્યારે કરવાનો છે ?	

9	() વાહનની ગતિ ધીમી કરવા () અચાનક બ્રેક મારવા () વાહન પાર્કિંગ કરવા	
11 0	મોટર સાર્થકલ પર બે કરતા વધુ વ્યક્તિ બેસે તો... () કાયદાનો ભંગ થાય છે () ટ્રાફિક ઓછુ હોય તો બેસી શકે () અનિવાર્ય સંજોગોમાં પણ બેસી શકે	
11 1	ગીયર વગરનાં મોટર સાર્થકલનું લાઇસન્સ મેળવવામાં ઓછામાં ઓછી ઉંમર ... () ૧૮ વર્ષ () ૨૧ વર્ષ () ૧૬ વર્ષ	
11 2	તમે જ્યારે સ્કૂલની ટ્રાફિક સંજ્ઞા જુઓ ત્યારે... () વાહન થોભાવો, હોર્ન વગાડો અને આગળ વધો () વાહન ધીમું કરો અને સાવચેતીથી આગળ વધો () સતત હોર્ન ચાલુ રાખો અને આગળ વધો	
11 3	નવી કાર માટે વન ટાઇમ ટેક્ષ એટલે... () વાહનનું રજીસ્ટ્રેશન કેન્સલ થાય ત્યાં સુધી () ૧૫ વર્ષ () ૫ વર્ષ	
11 4	ટ્રાન્સપોર્ટ વાહનનું લાઇસન્સ લેવા માટે ઓછામાં ઓછી ઉંમર...	

	<p>() ૨૫ વર્ષ</p> <p>() ૧૮ વર્ષ</p> <p>() ૨૦ વર્ષ</p>	
<p>11 5</p> 	<p>જયારે મોટર વાહન અકસ્માતમાં સંડોવાય ત્યારે...</p> <p>() નજીકના પોલીસ સ્ટેશનમાં ૨૪ કલાકમાં જાણ કરશે</p> <p>() નજીકના પોલીસ સ્ટેશનમાં જાણ કરશે નહીં</p> <p>() તાત્કાલિક પોલીસ સ્ટેશને જાણ કરશે</p>	
<p>11 6</p> 	<p>જાહેર સેવાનું વાહન ચલાવતી વખતે ધુમ્રપાન કરવાથી ...</p> <p>() ડ્રાઇવિંગ લાઇસન્સ સસ્પેન્ડ થઈ શકે</p> <p>() ફક્ત દંડ થઈ શકે</p> <p>() કંઈપણ થઈ શકે નહીં</p>	
<p>11 7</p> 	<p>પાછળનાં વાહને જયારે આપણા વાહનને ઓવર ટેક કરવાનું શરૂ કર્યું હોય ત્યારે...</p> <p>() આપણે બીજા વાહનને ઓવર ટેક કરીશું નહીં</p> <p>() આપણે બીજા વાહનને ઓવર ટેક કરી શકીએ</p> <p>() હોર્ન વગાડીને આપણે બીજા વાહનને ઓવર ટેક કરી શકીએ</p>	